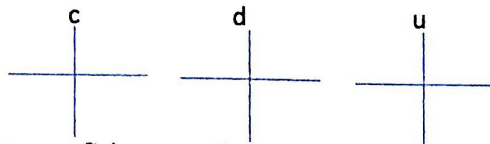




ASIGNATURA: Taller de matemáticas

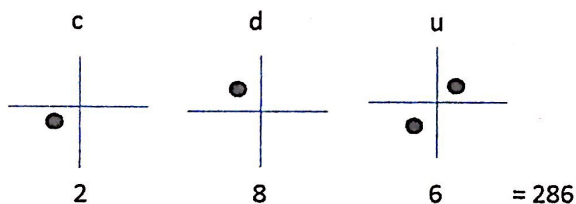
Se trabaja con las 3 placas con las siguientes indicaciones:

1. Sacan una placa y la colocan encima de la mesa al lado derecho, esa placa es la de los unos, sacamos otra placa y la colocamos al lado izquierdo de la anterior placa es la placa de los dieces y por último sacamos una tercera placa y la colocamos al lado de la placa izquierda es la placa de los cientos, nos quedara así:



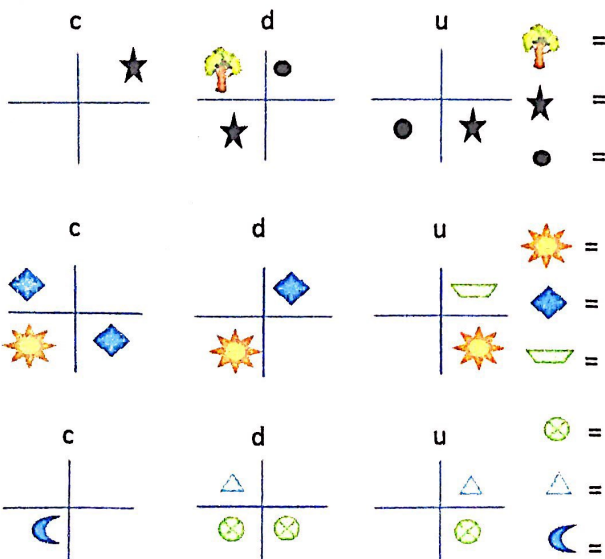
Trabajamos con fichas amarillas.

2. En la placa de los unos marquen una ficha en carmín y otra en blanca.
En la placa de los dieces marquen una ficha en carmelita y la placa de los cientos marcan una ficha en rojo ¿qué número marquemos? Lea el número marcado de izquierda a derecha, nos quedara así:



EJERCICIOS PARA TRABAJAR EN CASA

1. Teniendo en cuenta las convenciones anota el número que está marcado detrás de cada una



2. Ejercicio

Trabajas con la placa de los unos, dieces y cientos y por medio de manchas de colores representa las siguientes cantidades.

Con azul 234, con verde 77, y con rojo 38

